




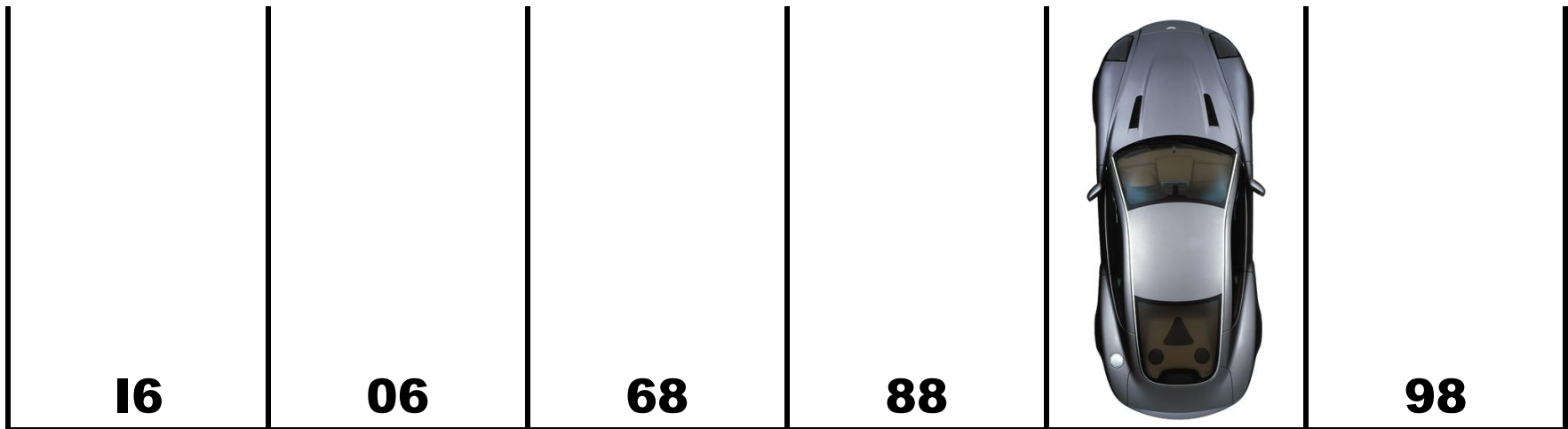
Primer Reto

Encuentra el resultado de la última fila

	+	 Ferrari	+	 Ferrari	=	17
	+		+		=	27
	+	 Ferrari	-	 MASERATI	=	11
 MASERATI	+		x	 Ferrari	=	

Segundo Reto

¿Podrías decir en qué número de parqueadero está el carro gris?



Tercer Reto

Ubicar los números del **1** al **8**, sin repetir número, y que los números consecutivos no queden de vecinos ni arriba, ni abajo, ni a la derecha, ni a la izquierda ni en diagonal

Estas son las fichas para recortar y usar en el tercer reto

1	2	3
4	5	6
7	8	

Cuarto Reto

¿Cuál es el resultado de la última fila?

8	+	9	=	17
10	+	11	=	38
12	+	13	=	63
14	+	15	=	